




แนวข้อสอบคณิตศาสตร์ ป.4

เรื่อง การบวก ลบ คูณ หารระคน

สนใจชุดข้อสอบเพิ่มเติม

 : Sanook_Kid คณิตศาสตร์

 : @331emzwc





แนวข้อสอบคณิตศาสตร์ ป.6

เรื่อง อัตราส่วน

1. อัตราส่วนในข้อใดแตกต่างจากพวก

ก. 1 : 2


ข. 2 : 3

ค. 4 : 6

ง. 6 : 9

สนใจชุดข้อสอบเพิ่มเติม

 : Sanook_Kid คณิตศาสตร์

 : @331emzwc





แนวข้อสอบคณิตศาสตร์ ป.6

เรื่อง อัตราส่วน

2. $A : 6 = 3 : 18$ A มีค่าเท่าใด

ก. 1


ข. 2

ค. 3

ง. 9

สนใจชุดข้อสอบเพิ่มเติม

 : Sanook_Kid คณิตศาสตร์

 : @331emzwc





แนวข้อสอบคณิตศาสตร์ ป.6

เรื่อง อัตราส่วน

3. อัตราส่วนในข้อใดเท่ากับ 9 : 24

ก. 27 : 48

ข. 18 : 33

ค. 3 : 18

ง. 3 : 8

สนใจชุดข้อสอบเพิ่มเติม

 : Sanook_Kid คณิตศาสตร์

 : @331emzwc





แนวข้อสอบคณิตศาสตร์ ป.6

เรื่อง อัตราส่วน

4. ในการทำขนมชนิดหนึ่งใช้อัตราส่วนของน้ำ
หนักของน้ำตาลต่อน้ำหนักของแป้งเป็น 1 ต่อ 4
ถ้าจอยใช้แป้งหนัก 20 กิโลกรัม จะต้องใช้น้ำตาล
หนักกี่กิโลกรัม

ก. 27 : 48

ข. 18 : 33

ค. 3 : 18

ง. 3 : 8

สนใจชุดข้อสอบเพิ่มเติม

 : Sanook_Kid คณิตศาสตร์

 : @331emzwc





แนวข้อสอบคณิตศาสตร์ ป.6

เรื่อง อัตราส่วน

5. แม่ผสมน้ำหวานสำหรับเลี้ยงวันเกิดลูกสาว โดยใช้น้ำหวานเข้มข้น 4 ขวด ต่อน้ำเปล่า 5 ลิตร คุณแม่ใช้น้ำหวานเข้มข้นไปทั้งหมด 16 ขวด จะต้องใช้น้ำเปล่าทั้งหมดกี่ลิตร

ก. 12 ลิตร


ข. 20 ลิตร

ค. 21 ลิตร

ง. 25 ลิตร

สนใจชุดข้อสอบเพิ่มเติม

 : Sanook_Kid คณิตศาสตร์

 : @331emzwc

