



เฉลยข้อสอบ

NT คณิตศาสตร์ ป.3

(ปีการศึกษา 2567)



SanookKID_คณิตศาสตร์



thai-students.com



@331emzwc

1. ยอดขายสินค้าของบริษัทแห่งหนึ่ง ตั้งแต่เดือนกรกฎาคม ถึงตุลาคม ดังนี้

เดือน	ยอดขาย(บาท)	เรียงมากไปน้อย
กรกฎาคม	76,480	2
สิงหาคม	75,463	4
กันยายน	76,580	1
ตุลาคม	75,475	3

ข้อใดเรียงลำดับเดือนที่มียอดขายจากมากไปน้อยได้ถูกต้อง

ตอบ กันยายน กรกฎาคม ตุลาคม สิงหาคม




SanookKID_คณิตศาสตร์



thai-students.com



@331emzwc



2. ร้านค้ามีน้ำผลไม้ที่เหลือจากการขายอยู่ในโหลที่มีขนาดเท่ากัน

ชนิด	น้ำส้ม	น้ำมะนาว	น้ำฝรั่ง	น้ำลิ้นจี่
ปริมาตร (ขวดโหล)	$\frac{5}{9}$	$\frac{5}{8}$	$\frac{5}{11}$	$\frac{5}{6}$
เรียงมากไปน้อย	3	2	4	1

การเรียงลำดับเศษส่วนที่ตัวเศษเท่ากัน เศษส่วนที่ตัวส่วนน้อยเศษส่วนนั้นจะมีค่ามาก

จากข้อมูล ข้อนี้อาจเปรียบเทียบปริมาตรของน้ำผลไม้ได้ถูกต้อง

ตอบ น้ำฝรั่ง น้อยกว่า น้ำมะนาว




SanookKID_คณิตศาสตร์



thai-students.com



@331emzwc



3.

ตุ๊ก ทำน้ำส้มได้ 90 ขวด
ตุ้มตาม ทำน้ำส้มได้มากกว่าตุ๊ก 42 ขวด
แล้วบรรจุใส่กล่อง กล่องละ 6 ขวด




จากข้อมูล ตุ้มตามจะใช้กล่องทั้งหมดกี่กล่อง

ตุ้มตาม ทำน้ำส้มได้ $90 + 42 = 132$ ขวด

บรรจุใส่กล่อง กล่องละ 6 ขวด

จะต้องใช้กล่อง $132 \div 6 = 22$ กล่อง

ตอบ 22 กล่อง



4.



ป้อมมีของเล่น จำนวน 7 ลัง ลังละ 144 ชิ้น
นำไปแจกนักเรียน จำนวน 6 โรงเรียน โรงเรียนละเท่า ๆ กัน

จากข้อมูล แต่ละโรงเรียนจะได้ของเล่นกี่ชิ้น

ป้อมมีของเล่นทั้งหมด $7 \times 144 = 1,008$ ชิ้น

นำไปแจกนักเรียน จำนวน 6 โรงเรียน

แต่ละโรงเรียนจะได้ของเล่น $1,008 \div 6 = 168$ ชิ้น

ตอบ 168 ชิ้น



SanookKID_คณิตศาสตร์





thai-students.com



@331emzwc



5. จินดาซื้อผลไม้อบแห้งมาขาย รายละเอียดดังนี้

ราคาซื้อมา	ราคาขายได้
	
8 ถุง ราคาถุงละ 100 บาท	ขายได้ 960 บาท

จากข้อมูล เงินที่ได้จากการขายมากกว่าราคาซื้อมาอยู่เท่าใด

จินดาซื้อผลไม้อบแห้งมา $8 \times 100 = 800$ บาท

จินดาขายผลไม้อบแห้งได้เงิน 960 บาท

ดังนั้น เงินที่ได้จากการขายมากกว่าราคาซื้อมา $960 - 800 = 160$ บาท

ตอบ 160 บาท






SanookKID_คณิตศาสตร์



thai-students.com



@331emzwc

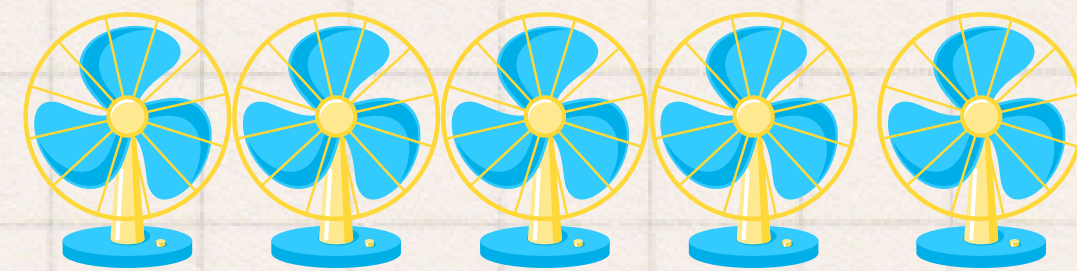


6.

โรงเรียนได้รับเงินบริจาค 25,000 บาท

นำไปซื้อหนังสือ 16,000 บาท

และนำเงินที่เหลือไปซื้อพัดลม 5 ตัว ราคาตัวละเท่า ๆ กัน



จากข้อมูล พัดลมราคาตัวละกี่บาท

โรงเรียนเหลือเงินซื้อหนังสือ $25,000 - 16,000 = 9,000$ บาท

นำเงินไปซื้อพัดลม 5 ตัว ราคาตัวละเท่า ๆ กัน

ดังนั้น พัดลมราคาตัวละ $9,000 \div 5 = 1,800$ บาท

ตอบ 1,800 บาท



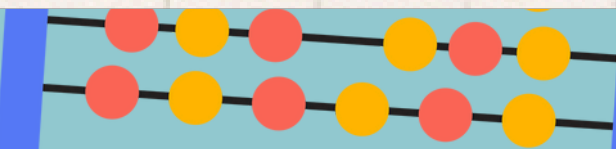
SanookKID_คณิตศาสตร์



thai-students.com



@331emzwc



7. ครูให้นักเรียนปลูกผักชนิดต่าง ๆ ในแปลงเกษตร จำนวน 1 แปลง ดังนี้

ปลูกผักคะห่ำ	$\frac{5}{12}$	แปลง
ปลูกผักกวางตุ้ง	$\frac{3}{12}$	แปลง
พื้นที่ที่เหลือ ปลูกต้นหอม		

จากข้อมูล นักเรียนปลูกต้นหอมเป็นพื้นที่เท่าใด

แปลงผัก 1 แปลง คิดเป็นพื้นที่ $\frac{12}{12}$ แปลง


ปลูกผักคะห่ำและผักกวางตุ้งเป็นพื้นที่ $\frac{5}{12} + \frac{3}{12} = \frac{8}{12}$ แปลง

ดังนั้น พื้นที่ปลูกต้นหอมเป็น $\frac{12}{12} - \frac{8}{12} = \frac{4}{12}$ แปลง

ตอบ $\frac{4}{12}$ แปลง



8. แม่ทำขนมใส่ถาดขนาดเดียวกัน แต่ละถาดแบ่งขนมเป็น 20 ชิ้นเท่ากัน



จากข้อมูล แม่เหลือขนมทั้งสองชนิดรวมกันคิดเป็นเศษส่วนเท่าใด

แม่เหลือวุ้นมะพร้าว $\frac{20}{20} - \frac{12}{20} = \frac{8}{20}$ ชิ้น แม่เหลือขนมชั้น $\frac{20}{20} - \frac{15}{20} = \frac{5}{20}$ ชิ้น

ดังนั้น แม่เหลือขนมทั้งสองชนิดรวมกัน $\frac{8}{20} + \frac{5}{20} = \frac{13}{20}$ ชิ้น

ตอบ $\frac{13}{20}$ ชิ้น

9. คุณยายทำขนมหม้อแกงจำนวน 1 ถาด

แบ่งไปทำบุญ $\frac{5}{20}$ ถาด

ให้เพื่อนบ้านมากกว่าทำบุญ $\frac{1}{20}$ ถาด

ให้หลานน้อยกว่าเพื่อนบ้าน $\frac{2}{20}$ ถาด

ขนมแกงที่เหลือนำไปขาย

แบ่งให้เพื่อนบ้าน $\frac{1}{20} + \frac{5}{20} = \frac{6}{20}$ ถาด

แบ่งให้หลาน $\frac{6}{20} - \frac{2}{20} = \frac{4}{20}$ ถาด

เหลือนำไปขาย $\frac{20}{20} - \frac{15}{20} = \frac{5}{20}$ ถาด

จากข้อมูล การแบ่งขนมในส่วนตัว น้อยที่สุด

ตอบ แบ่งให้หลาน



10. ชาวสวนเก็บมะเขือเทศและพริก ได้ตามแบบรูปดังนี้

วันที่เก็บ	1	2	3	4	5	6	7
มะเขือเทศ (กิโลกรัม)	153	145	137	129	121	113	105
พริก (กิโลกรัม)	58	63	68	73	78	83	88

Diagram showing daily changes: -8 kg for tomatoes and +5 kg for chili peppers from day 1 to 7.

จากข้อมูล ในวันที่ 5 ชาวสวนเก็บมะเขือเทศและพริก รวมกันได้เท่าใด

ในวันที่ 5 ชาวสวนเก็บมะเขือเทศและพริกรวมกัน $121 + 78 = 199$ กก.

ตอบ 199 กิโลกรัม





SanookKID-คณิตศาสตร์



thai-students.com

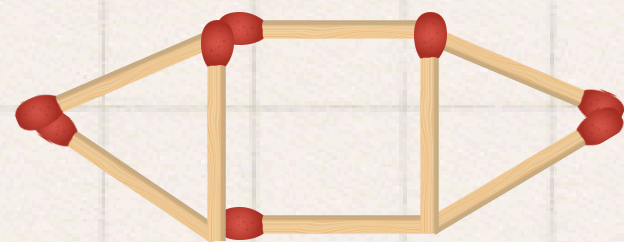


@331emzwc

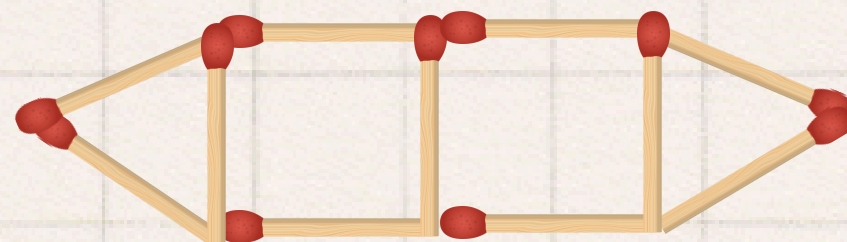


11. ตะวันห้าก้านไม้ขีดไฟมาต่อเป็นแบบรูป ดังนี้

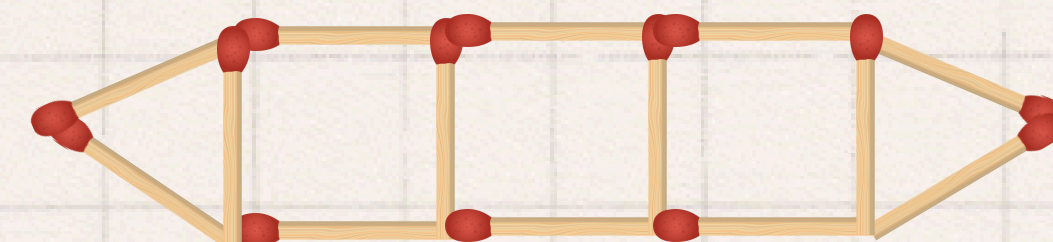
รูปที่ 1



รูปที่ 2



รูปที่ 3



.....
รูปที่ 6

.....

รูปที่ 1	ใช้ไม้ขีด	8	+3
รูปที่ 2	ใช้ไม้ขีด	11	+3
รูปที่ 3	ใช้ไม้ขีด	14	+3
รูปที่ 4	ใช้ไม้ขีด	17	+3
รูปที่ 5	ใช้ไม้ขีด	20	+3
รูปที่ 6	ใช้ไม้ขีด	23	+3

จากข้อมูล รูปที่ 6 ตะวันตะวันต้องใช้ก้านไม้ขีดทั้งหมดกี่ก้าน

ตอบ 23 ก้าน







SanookKID_คณิตศาสตร์



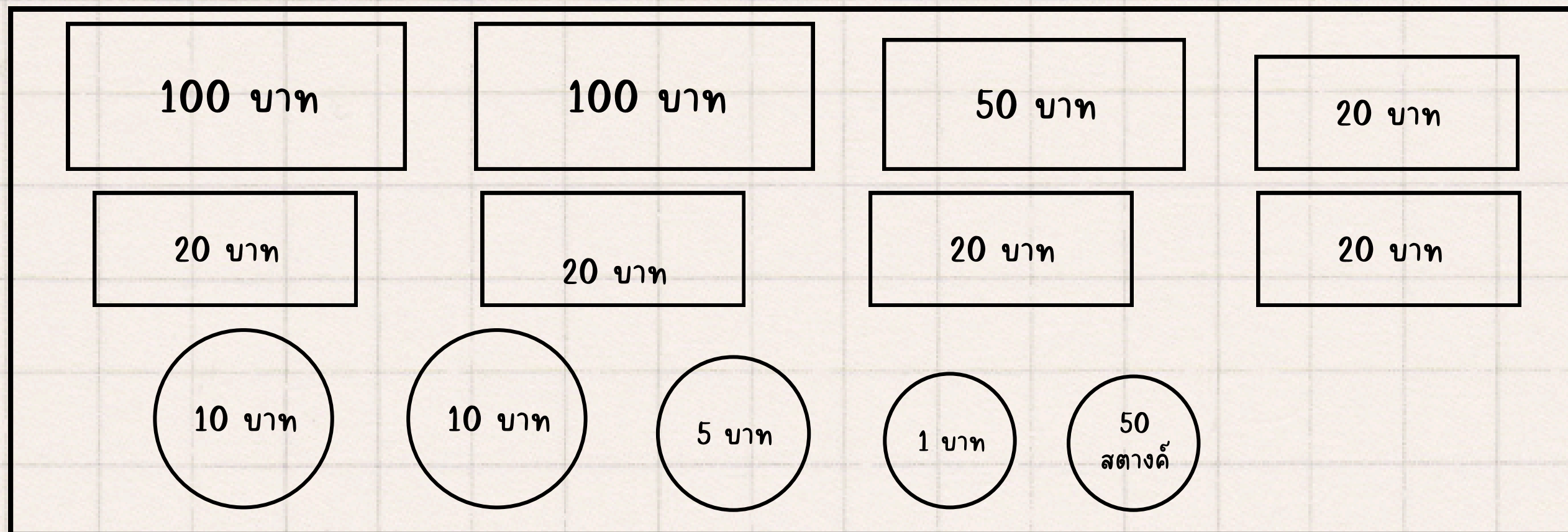
thai-students.com



@331emzwc



12. ลิซ่า มีเงินออม ดังนี้



จากข้อมูล ถ้าลิซ่าต้องการซื้อชุดหนังสือเรียน ราคา 450 บาท ต้องออมเงินเพิ่มเท่าใด

$$\begin{aligned} \text{ลิซ่า มีเงินออม } & (100 \times 2) + 50 + (20 \times 5) + (10 \times 2) + 5 + 1 + 0.50 \\ & = 376.50 \text{ บาท} \end{aligned}$$

$$\begin{aligned} \text{ลิซ่าต้องการซื้อชุดหนังสือเรียน ราคา 450 บาท} \\ \text{ต้องออมเงินเพิ่ม } & 450 - 376.50 = 73.50 \text{ บาท} \end{aligned}$$

ตอบ 73.50 บาท



SanookKID_คณิตศาสตร์



thai-students.com



@331emzwc

